








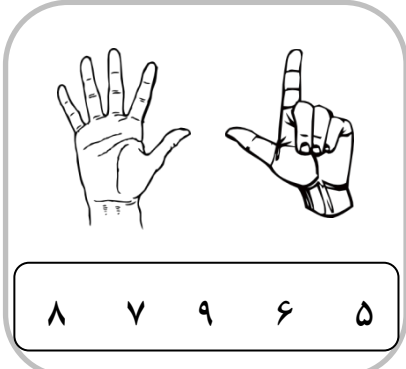


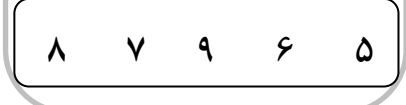








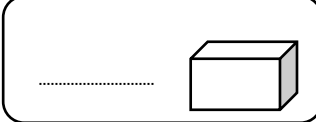
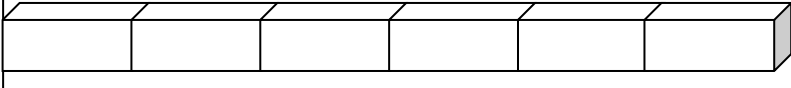
۱ - با توجه به عدد ها و چوب خط ها ، جاهای خالی را کامل کن .

۲ - دور عدد مناسب هر شکل خط بکش .

۳ - اندازه ی مداد چند تا شکل کوچک است ؟ عدد آن ها را بنویس .

۴ - با توجه به عدد نوشته شده از علامت < = > به طور مناسب استفاده کن .

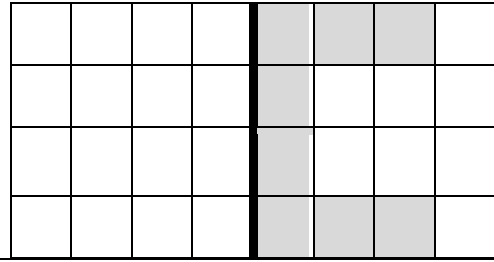
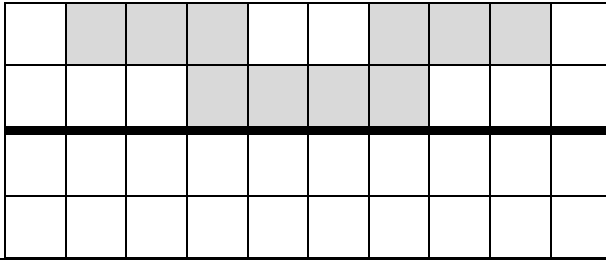
۱ ○ ۴    ۲ ○ ۵    ۸ ○ ۸    ۴ ○ ۳    ۶ ○ ۳

۵ - با توجه به جمع خانه ها را رنگ بزن و جواب را بنویس .


--	--	--	--	--	--	--	--	--	--	--	--

۴ + ۳ = .....


۶ - شکل را طوری کامل کن که دو نیمه ی آن مثل هم باشد .



۷ - برای شکل زیر جمع بنویس و برای جمع شکل بکش .



\_\_\_\_\_ + \_\_\_\_\_ = \_\_\_\_\_



\_\_\_\_\_ ۴ + ۲ = \_\_\_\_\_

۹ - در جدول عددهایی بنویس که جمع آن ها عدد بالای ستون باشد.

۴	

۸ - جدول شگفت انگیز را کامل کن .

۲	۴	۱		۵	۳
۳	۵		۴	۲	۱
۶		۴	۱	۳	
۱	۳		۲	۶	۴
۴	۶		۵	۱	۲
۵	۱	۲	۳	۴	

ن	ق	خ	خ	انتظارات آموزگار
ت	ق	خ	خ	
				عددها را می شناسد و به طور صحیح می نویسد.
				اندازه گیری غیر استاندارد را می داند و عدد مناسب را می نویسد.
				علامت < > = را می شناسد و به درستی استفاده می کند.
				مفهوم جمع را می داند و با شکل و عدد نشان می دهد.
				مفهوم تقارن را می داند و به درستی شکل را کامل می کند.
				جدول شگفت انگیز را به درستی کامل می کند.