



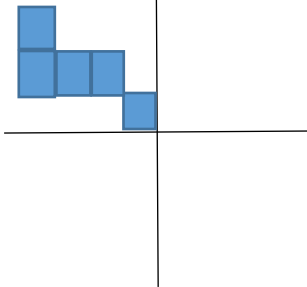
به نام او که هر چه داریم از اوست

تمرین ریاضی پایه سوم ...../.../۹۹

دبستان سادات

نام و نام خانوادگی:.....

۱) با توجه به خط های تقارن، شکل را کامل کنید و به سوال ها پاسخ دهید.



الف) با نوشتن یک عبارت جمع، تعداد مربع ها را به دست آورید.....

ب) با نوشتن یک عبارت ضرب، تعداد مربع ها را به دست آورید.....

۲) یک نانوا، هر نانی که می فروشد ۸ تومان سود می کند. او برای فروش چند نان ۴۸ تومان سود می کند؟ (با رسم جدول شود).

۲) سنجابی تمام گردو های خود را در ۷ ردیف ۴ تایی چید و ۳ گردو اضافه آمد. تعداد گردو های او چند تا می شود؟ (با رسم شکل حل شود)



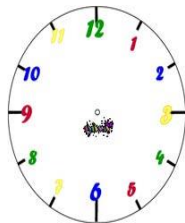
۴) رضادایره ای رسم کرد که شعاع آن ۲۰ میلی متر بود شعاع و قطر دایره چند سانتی متر است؟



۵) خیاطی ۱۲ متر پارچه رانصف کرد. با نیمی از آن یک چادر دوخت و نیمی دیگر را نیز به ۳ قسمت مساوی تقسیم کرد و با یک قسمت آن دامن دوخت. چه کسری از پارچه باقی مانده است؟ (با رسم شکل حل شود).



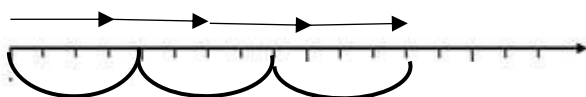
۶) بر روی ساعت رو به رو نشان بدهید که  $\frac{۱۵}{۶۰}$  مانده به ساعت ۳.



۷) رضا یک اسکناس ۵۰۰۰ تومانی، دو اسکناس ۲۰۰۰ تومانی و یک اسکناس ۵۰۰ تومانی دارد. اگر او ۲۵۰۰ تومان از پولش را خرج کند چند ریال برایش باقی می ماند؟



۸) با توجه به محور زیر جاهای خالی را کامل کنید. از تساوی چه نتیجه ای می گیری؟



---x---=---x---

۹) علامت < = > بگذارید.

۵۴۰۲

۳۲۰۰-۱۷۰۰



$$\frac{2}{\square} = \frac{2}{3}$$

$$45 \div 5 = \square$$

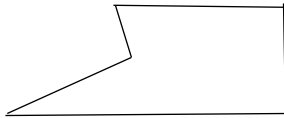
۳ کیلومتر و ۱۰۵ متر  $\square$  ۳۴۰۵ متر

۱۰) علی در روز اول ۴۰۰ متر راه را پیاده و روز دوم یک کیلومتر و ۵۰۰ متر راه را با اتومبیل طی کرد. او روی هم چند کیلومتر و چند متر از مسیر را طی کرده است؟



۱۱) شکل مقابل چند زاویه دارد؟

زاویه های راست آن را مشخص کنید.



۱۲) زهرا طول کلاس را با قدم های خود اندازه گرفت ۸ قدم شد و فاطمه طول همان کلاس را با قدم های خود اندازه گرفت ۵ قدم شد. اندازه ی قدم های چه کسی بزرگتر است ؟  
چرا؟

۱۳) شکل رو به رو را به دسته های ۴ تایی ، دسته بندی کنید، سپس با توجه به دسته بندی جاهای خالی را پر کنید.



-----x-----=-----

-----÷-----=-----

۱۴) درستی یا نادرستی عبارات زیر را با علامت زدن مشخص کنید.

(الف) اگر عقربه ی بزرگ ساعت ۱۵ دقیقه حرکت کند، زاویه ی راست درست می شود.

(ب) آجر ، شش طرف دارد و هر طرف آن به شکل مربع است.

(ج) در شمارش ۴ تا ۴ تا ، عدد بعد از ۲۰ می شود ۲۸ .

(د) بهترین وسیله برای رسم دایره گونیا است .

نادرست

درست

۱۵) نیما هر فصل کتاب اجتماعی خود را در ۲۰ دقیقه مرور می کند. اگر کتاب او ۸ فصل داشته باشد. چند دقیقه طول می کشد تا کل کتابش را مرور کند؟

این مقدار چند ساعت و چند دقیقه است؟



۱۶) با رقم های ۱، ۲، ۴ و ۷ بزرگترین و کوچکترین عدد چهار رقمی را بنویسید و سپس اختلاف آن ها را به دست آورید.



۱۷) با پرگار خود دایره ای بکشید که شعاع آن ۲ سانتی متر باشد.

اگر ۳ تا از قطر های دایره را رسم کنیم ، چند شعاع خواهیم داشت؟

قطر دایره چند سانتی متر است؟

موفق باشید



نیاز به تلاش	قابل قبول	خوب	بسیار خوب