



باسمه تعالی

سازمان آموزش و پرورش استان اصفهان

اداره آموزش و پرورش ناحیه ۵

دبستان پسرانه سادات

نام و نام خانوادگی:

تمرین ریاضی

کلاس سوم

اسفند ۹۸

۱- در الگوی شمارش ۹ تا ۹ تا هفتمین عدد کدام است؟

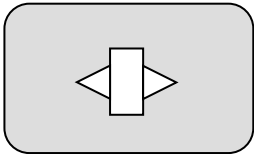
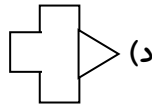
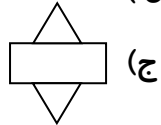
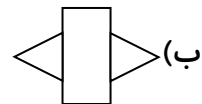
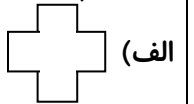
الف) ۷۲

ب) ۸۱

ج) ۶۳

د) ۵۴

۲- کدام گزینه شبیه به شکل است؟ (علامت ✓ بزن.)



۳- قد مهیار ۱۲۴ سانتی متر است و قد سجّاد ۳۷ سانتی متر از قد مهیار بیش تر است.

الف) قد سجّاد چند سانتی متر است؟

ب) قد آنها روی هم چند سانتی متر است؟

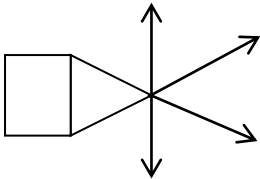


۴- شکل زیر از چند پاره خط، نیم خط و خطّ راست شده است؟

تعداد پاره خط:


تعداد نیم خط:

تعداد خطّ راست:

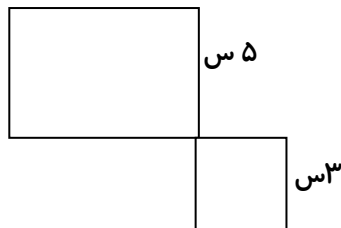


۵- مساحت هر شکل چند سانتی متر مربع است؟

۷ س



۸ س



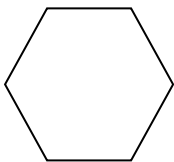
۵ س

۳ س

۶- با توجه به شکل، پاسخ بده.

الف) نام شکل چیست؟

ب) شکل چند قطر دارد؟ قطرهایش را رسم کن.

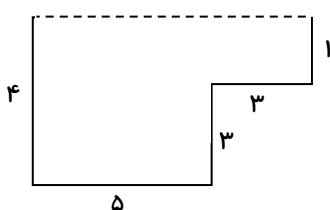


۷- در جاهای خالی، کلمه ی مناسب بنویس.

الف) اندازه ی دور تا دور هر شکل را آن شکل می گویند. اندازه ی سطح هر شکل را آن شکل می گویند.

ب) یک متر برابر است با میلی متر. واحد اندازه گیری مساحت ش. است.

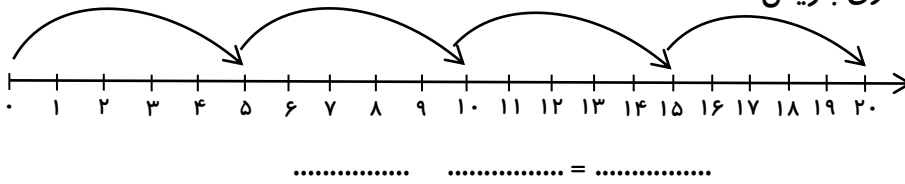
۸- ابتدا اندازه ی ضلع داده نشده (خط چین) را پیدا کن و سپس محیط شکل را به دست آور.



۹- سیما ۹ ساله است. سن مادرش ۵ برابر سن سیما است. مادر سیما چند ساله است؟

سیما و مادرش روی هم چند سال دارند؟

۱۰- برای محور زیر، یک تساوی بنویس.

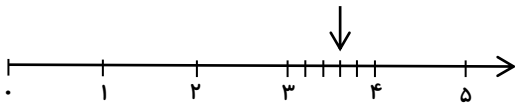


۱۱- طول مستطیلی ۷ سانتی متر و عرض آن ۴ سانتی متر است. مساحت مستطیل چند سانتی متر مربع است؟

۱۲- جدول زیر را کامل کن.

×	۷	۵	۹	۳	۶	۱۰	۴
۷							
۶							

۱۳- نقطه ی مشخص شده روی محور چه عددی را نشان می دهد؟



..... واحد مانده به عدد

۱۴- عددهای زیر را به صورت گسترده بنویس.

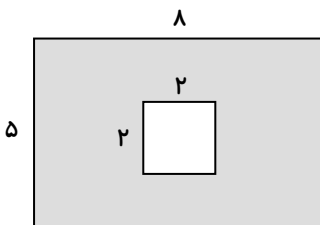
$5820 = \dots\dots\dots$

$2406 = \dots\dots\dots$

۱۵- می خواهیم دور میزی به شکل مربع که اندازه ی هر ضلع آن ۸ متر است، را نوار دوزی کنیم. برای دوبار نوار دوختن به چند

متر نوار نیاز داریم؟

۱۶- مساحت قسمت رنگ شده را به دست آور.



۱۷- معلّم با یک سیم، شکل زیر را درست کرد و ۵ سانتی متر از سیم باقی ماند. طول سیم چه قدر بوده است؟

