



تاریخ:

فردی گروهی


دبستان سادات پایه سوم

نام و نام خانوادگی:

آزمون عملکردی علوم

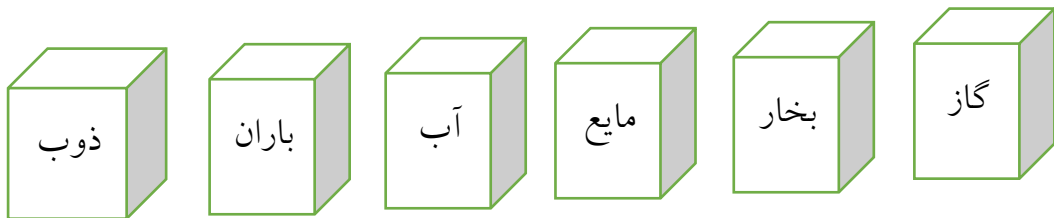
هدف: چرخه ی آب

۱ این تصویر چه چیزی را نشان می دهد؟



.....
.....
.....

۲ می توانی با استفاده از جعبه ی کلمات عبارت های (الف) و (ب) را کامل کنی .



الف : آب سطح دریا به اندازه ی کافی گرم می شود و به تبدیل می شود .


ب (بخار آب در قسمت های سرد هوا دوباره و به شکل به زمین بر می گردد .

❖ برای هر کدام از تغییر حالت های زیر یک مثال بیاور :

❖ تبخیر :

❖ میعان :


زهرا و برادرش رضا یک پیراهن را قبل از شستن وزن می کنند .



آنان پیراهن را بعد از شسته شدن هم ، وزن می کنند .

فکر می کنی چرا جرم پیراهن بیش تر شده است ؟

روی دایره ی زیر با تقسیم بندی مناسب مقدار آب های شور در روی زمین را با سبز و آب های شیرین را با آبی نشان بده .



بازخورد:

جدول انتظارات	در حد انتظار	نزدیک به انتظار	نیاز به تلاش
۱- با پرچه ی آب آشنایی لازم را دارد.			
۲- متوجه شده که چرا باید در مصرف آب صرفه جویی کند .			
۳- مقدار آب شور نسبت به آب شیرین را می داند .			
۴- کار را تمیز و با علاقه انجام داده است.			