



دبستان پسرانه سادات

نام و نام خانوادگی:

تمرین ریاضی

کلاس سوم

اسفند ۹۸

۱ جاهای خالی را با عبارت مناسب پر کن .

- هر کیلو مترمتر و هر متر سانتی متر و هر سانتی متر میلی متر است .
- ۸ وزنه ی ۲۵۰ گرمی برابر است با کیلو گرم .
- هر چهار ضلعی از پاره خط تشکیل شده است . ۹ کیلومتر و ۱۵ متر متر است .

۲ کوچک ترین عدد چهار رقمی را با اعداد ۳ - ۰ - ۵ - ۷ بنویس ، به صورتی که یکان آن ۵ باشد .

۳ در جاهای خالی عدد مناسب بگذار و ضرب مربوط به آن را بنویس .

$$7+7+7+7= \square$$

۴ جمع و تفریق زیر را به روش گسترده بنویسید .

$$7 \quad 4 \quad 8 \quad 6$$

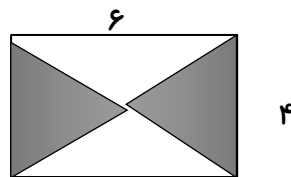
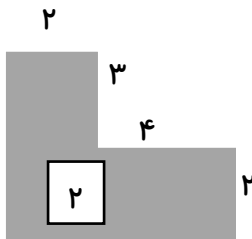
$$\begin{array}{r} 3 \quad 4 \quad 2 \quad 3 \\ - \end{array}$$

$$\begin{array}{r} 3 \quad 7 \quad 2 \quad 0 \\ + \end{array}$$

$$\begin{array}{r} 7 \quad 3 \quad 1 \\ + \end{array}$$

۵ مجموع دو عدد ۴۹ و اختلاف آن ۱۵ است . عدد بزرگ تر را پیدا کن .

۶ مساحت قسمت های رنگ شده ی زیر را بدست بیاورید .

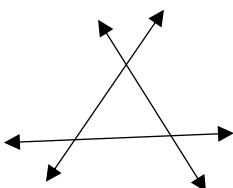


۷ کشاورزی می خواهد دور تا دور زمین خود را که به طول ۷ متر و عرض ۶ متر است ، با فاصله ی ۲ متر از هر طرف نرده کشی کند .

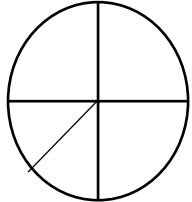
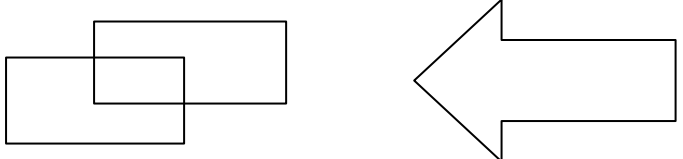
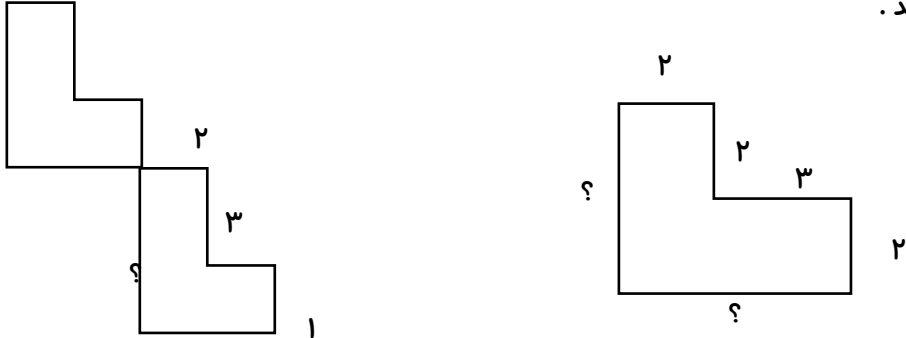

الف) کشاورز چندمتر نرده لازم دارد ؟

ب) مساحت زمین نرده کشی شده چند متر مربع است ؟

۸ در شکل مقابل چند پاره خط و چند نیم خط و چند خط راست وجود دارد ؟



- نیم خط
- پاره خط
- خط راست

۹	محیط یک مربع ۸ سانتی متر است . اگر محیط آن دو برابر شود . اندازه ی هر ضلع آن چند سانتی متر است ؟
۱۰	پریا ۹۸۴۶ تومان پول داشت ، او یک کتاب به قیمت ۴۰۳۵ تومان و یک تراش رومیزی به قیمت ۲۱۴۵ تومان خرید . الف) پریا چند تومان خرج کرده است ؟ ب) چند تومان برایش باقی می ماند ؟
۱۱	در شکل روبرو چند شعاع و قطر می بینید ؟ 
۱۲	علامت مناسب < = > بگذار . ۳ وزنه ی نیم کیلویی <input type="text"/> ۵ وزنه ی ۲۵۰ گرمی قطر ۶ ضلعی <input type="text"/> مجموع قطر ۳ ضلعی و ۵ ضلعی $۹۳۴۹ - ۹۳۵۷ = ۳۲ \div ۴$ <input type="text"/> $۳ \times ۴ = (۴۵ - ۹) \div ۴$ <input type="text"/>
۱۳	آرمان ساعت ۴:۲۰ از مدرسه به خانه می رسد و بعد از یک ساعت و ۱۵ دقیقه شروع به درس خواندن می کند . او چه ساعتی درس را شروع می کند ؟
۱۴	در شکلهای زیر چند گوشه ی راست می بینید ؟ نشان بده. 
۱۵	محیط شکلهای زیر را به دست بیاورید . 
۱۶	نام هر شکل رانوشته و برای هر یک مثال بنویس .  نام: نام: مثال: نام: مثال: نام: