



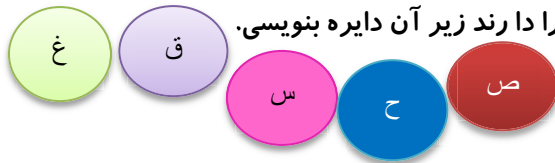
## به نام خالق نور

### پایه سوم دبستان سادات

بهمن ماه ۹۱

تعداد سوال ۲۵

نام و نام خانوادگی .....



۱ روی هر دایره حرفی نوشته شده و تو باید همه ی کلمه هایی را که آن حرف را دارند زیر آن دایره بنویسی.

پشتیبانی	خنک	صف	عسل	نخلستان	نسیم
مدینه	کوزه	غلغله	قنبر	سمت	محبت
حضرت	سکوت	سهم	منتظر	صورت	غرق

۱

۲ در متن زیر کلماتی که پسوند ستان دارند را پیدا کن و بعداصل کلمه را بدون پسوند بنویس.

من دانش آموز کلاس سوم دبستان هستم. یک خواهر بزرگ تر از خودم دارم که در هنرستان تحصیل می کند و یک برادر کوچک تر دارم که به کودکستان می رود. پدرم معلم دانش آموزان سوم دبیرستان است و مادرم پرستار بیمارستان فارابی می باشد. ما برای گذراندن تعطیلات نوروزی به شهرستان نزد پدر بزرگ و مادر بزرگم می رویم.

۲

۳ حالا پرسش های زیر را با کلمه هایی که با ستان می سازی پاسخ بده.


- الف- جایی که در آن گل رویده است. .... + ستان = .....
- ب- جایی که در آن کوه است. .... + ستان = .....
- ج- جایی که در آن نی است. .... + ستان = .....

۳

۴ به هر کلمه یک واژه اضافه کن که معنی تازه ای بدهد.

- امیرالمومنین ..... خالی..... بیت المال..... خرما.....
- با ربر..... ایران..... پاکی..... ماه.....

۴



۵ پاسخ پرسش ها را از بین کلمه ها انتخاب کن و در خانه های هم شماره ی آن در جدول کندوی زنبور عسل بنویس.

- پشتیبانی- خنک- عسل- نخلستان- نسیم- مدینه- محبت  
 غلغله- امیرالمومنین- قنبر- سمت- حضرت- صورت  
 بیت المال- سهم- صف- منتظر- تک تک

- ۱) هم معنی سرد. (۲) هم معنی مهر. (۳) نام شهری در درس چهار ردهم  
 ۴) کلمه ی مخالف سکوت. (۵) مخالف کسی که انتظار نمی کشد.  
 ۶) مخالف حمایت نکردن. (۷) جایی که در آن اموال مردم نگه داری  
 می شود. (۸) حضرت علی ع را ..... هم می نامیدند.

۵

۶ جاهای خالی را پر کن.

- خانواده ام یعنی: ..... خانواده مان: .....  
 خانواده ات: ..... خانوادتان: .....  
 خانواده اش: ..... خانوادشان: .....  
 مدرسه ام: ..... مدرسه ام: .....  
 مدرسه تان: ..... مدرسه ی تو: .....  
 مدرسه ی آن ها: ..... مدرسه اش: .....

۶

۷

تعدادی جمله در جدول آمده است. اما کلمه های آن به صورت پراکنده نوشته شده اند. شماره ی خانه های مربوط به هر جدول را رنگ کن و بعد آن را مرتب کن و جمله را بنویس.

خداوند ۱	به ۲	در ۳	مطمئن ۴	حلقه ۵
بهترین ۶	مخترع ۷	همه چیز ۸	نظر ۹	شما ۱۰
باش ۱۱	اطراف ۱۲	خوبی ۱۳	مردم ۱۴	چه ۱۵
را ۱۶	خواهد شد ۱۷	تلفن ۱۸	منظم ۱۹	است ۲۰
خاطره ای ۲۱	عید ۲۲	و ۲۳	زند ۲۴	دقیق ۲۵
چيست ۲۶	کسی ۲۷	آفریده ۲۸	حضرت ۲۹	خاطره ۳۰

۱- (۱-۸-۱۶-۱۹-۲۳-۲۵-۲۸)

۲- (۴-۱۱-۲۱-۱۳-۱۷)

۳- (۲-۹-۱۰-۲۲-۳۰-۲۶)

۴- (۳-۱۲-۲۹-۵-۲۴)

۵- (۷-۱۸-۱۵-۲۷-۲۰)

۸

با کلمه های به هم ریخته جمله بساز.

الف) چه تفاوت هایی - شالیزار - دارد - با - می داند - کویر - را کسی - ؟  
 ب) که - در - دماوند - و - الوند - دو - نفر - کوه نوردی - کرده اند - را - می شناسم؟  
 ج) و - ابوریحان بیرونی - اما - و - دکتر حسابی - بوده اند - دانشمند - فردوسی - بوده اند - مولوی - و ابوعلی سینا - شاعر.

۹

به کلمه های زیر (انه) اضافه کن و در برابر آن بنویس.

- صمیم + انه = .....
- عادل + انه = .....
- شاعر + انه = .....
- شجاع + انه = .....
- برادر + انه = .....
- کودک + انه = .....
- جوانمرد + انه = .....
- منصف + انه = .....
- صبور + انه = .....
- دلیر + انه = .....

حالا می توانی چهار کلمه ی دیگر با (انه) بسازی.

۱۰

کلمه های مخالف را بایک رنگ مشخص کن.

آفتابی	بهترین	سیراب	خشکیده	باز	تشنه
وسیع	بسته	تر	محدود	سربلندی	کوتاه
سرافکنده	عقب مانده	طولانی	مهتابی	بدترین	پیش رفته


۱۱

برای هر تصویر یک جمله زیبا و کامل بنویس.

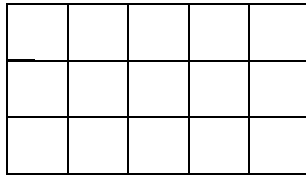
..... :  
 ..... :  
 ..... :



۱۲ برای به دست آوردن مساحت هر کدام از این شکل ها یک ضرب بنویس.



..... × ..... =

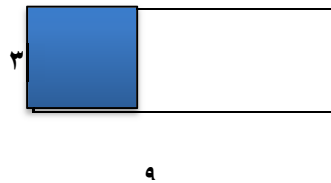
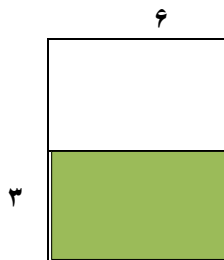


..... × ..... =

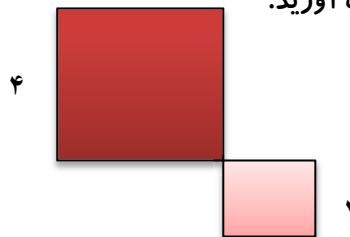
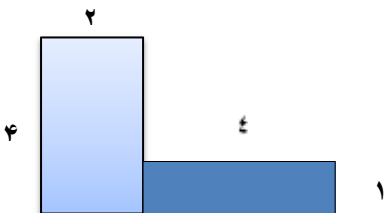
۱۳ یک مربع به ضلع سه سانتی متر رسم کن سپس محیط و مساحت آن را به دست آور.

۱۴ مساحت مستطیلی را که پهناى آن ۲ سانتی متر و اندازه ی طولش سه برابر اندازه ی پهنايش باشد را حساب کن.

۱۵ مساحت قسمت رنگ شده ی هر شکل چند سانتی متر مربع است؟



۱۶ مساحت شکل های زیر را به دست آورید.



۱۷ تفاوت مساحت و محیط را در یک جمله بنویس.

۱۸ یک مستطیل رسم کن که عرض آن ۳ سانتی متر و طول آن ۱ زدو برابر عرضش ۲ سانتی متر بیش تر باشد.

الف) محیط این مستطیل چند سانتی متر مربع است؟.....

ب) مساحت این مستطیل چند سانتی متر مربع است؟.....


۱۹ برای تساوی  $(1 \times 5) + (3 \times 5) = 3 \times 5$  شکل بکش .

۲۰ در هر طرف تساوی های زیر به جای □ عدد مناسب بنویس.

$$5 \times 9 = (\square \times 9) + (1 \times \square)$$

$$8 \times 6 = (7 \times \square) + (1 \times \square)$$

$$\square \times \square = (9 \times 4) + (1 \times 4)$$



۲۱ به شکل نگاه کن وبعد ضرب خواسته شده را بنویس.

الف) ضرب دایره های آبی .....

ب) ضرب دایره های سفید .....

ج) ضرب دایره ها .....

۲۲ یک سالن در ۲ ردیف گلدان چیده شده است. و در هر ردیف ۴ گلدان قرار دارد اگر داخل هر گلدان ۷ شاخه گل باشد. در این سالن چند گل قرار دارد؟

۲۳ حاصل ضرب های زیر را بنویس.

$$(2 \times 4) \times 3 =$$

$$(2 \times 2) \times 7 =$$

$$(3 \times 2) \times 4 =$$

$$(4 \times 2) \times 5 =$$

$$(3 \times 3) \times 9 =$$

$$8 \times (2 \times 5) =$$

۲۴ برای هر تساوی مساله بنویس.

$$(2 \times 3) \times 6 = \square$$

$$2 \times 4 \times 5 = \square$$

۲۵ برای هر تساوی شکل مناسب رسم کن و مساله بنویس.

$$9 \times 9 =$$

$$8 \times 7 =$$

یوم الله ۲۲ بهمن مبارک