



دبستان پسرانه سادات

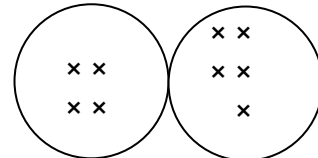
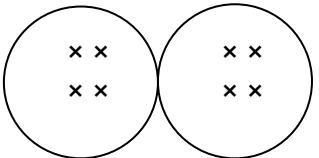
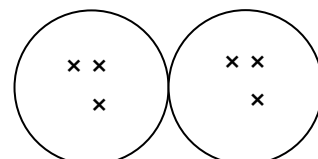
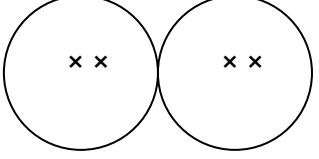
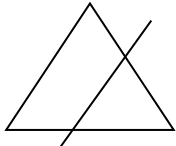

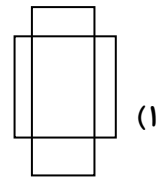
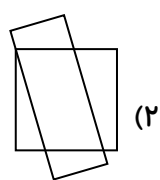
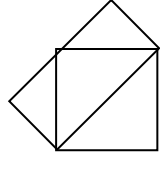
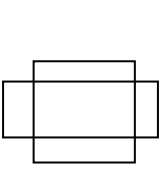
تعداد سؤال ۳۰ عدد













آبان ۹۱





















پایه سوم

آدینه ۹۱/۰۹/۰۳

سوالات ریاضی

<p>۱</p> <p>با توجه به شکل ، عامل اول ضرب ، چه عددی می تواند باشد؟</p> <p>○○○○ ○○○○ ○○○○ ○○○○</p> <p><input type="checkbox"/> ۴ (۴) <input type="checkbox"/> ۳ (۳) <input type="checkbox"/> ۲ (۲) <input type="checkbox"/> ۱ (۱)</p>	
<p>۲</p> <p>حاصل جمع دو عدد مثل هم ۴ است . حاصل ضرب آنها چند است؟</p> <p><input type="checkbox"/> ۵ (۴) <input type="checkbox"/> ۴ (۳) <input type="checkbox"/> ۳ (۲) <input type="checkbox"/> ۲ (۱)</p>	
<p>۳</p> <p>برای کدام شکل نمی توان ضرب نوشت؟</p> <p>(۱)  (۲) </p> <p>(۳)  (۴) </p>	
<p>۴</p> <p>در شکل زیر چند پاره خط وجود دارد؟</p> <p></p> <p><input type="checkbox"/> ۵ (۱) <input type="checkbox"/> ۶ (۲) <input type="checkbox"/> ۷ (۳) <input type="checkbox"/> ۸ (۴)</p>	
<p>۵</p> <p>در شکل زیر ، اختلاف بزرگترین و کوچکترین پاره خط چه قدر است؟</p> <p></p> <p><input type="checkbox"/> ۵ (۱) <input type="checkbox"/> ۶ (۲) <input type="checkbox"/> ۷ (۳) <input type="checkbox"/> ۸ (۴)</p>	
<p>۶</p> <p>دو چرخه سواری در یک مسابقه ۳ کیلومتری، ۵۰۰ متر نرسیده به خط پایان، دو چرخه اش پنچر شد. او چه قدر راه را طی کرده است؟</p> <p><input type="checkbox"/> ۵۰۰ (۱) متر <input type="checkbox"/> ۲۵۰۰ (۲) متر <input type="checkbox"/> ۲ کیلو متر و ۵۰۰ متر <input type="checkbox"/> ۳ و ۲ موارد</p>	
<p>۷</p> <p>در کدام شکل، طول مستطیل، قطر مربع است؟</p> <p>(۱)  (۲)  (۳)  (۴) </p>	

۸	با اضافه کردن ۲۱۸ به کدام یک از اعداد زیر، عدد هزار به دست می آید؟
	<input type="checkbox"/> ۶۸۲ (۱) <input type="checkbox"/> ۷۸۲ (۲) <input type="checkbox"/> ۸۸۲ (۳) <input type="checkbox"/> ۹۰۲ (۴)
۹	فرشید از فرهاد پرسید: چند تومان پول داری؟ فرهاد گفت: اگر ۲۰۰ تومان به تو بدهم و ۱۰۰ تومان از پدرم بگیرم، جمعاً ۹۰۰ تومان دارم. پول فرهاد چند تومان است؟
	<input type="checkbox"/> ۱۰۰۰ (۱) <input type="checkbox"/> ۸۰۰ (۲) <input type="checkbox"/> ۷۰۰ (۳) <input type="checkbox"/> ۶۰۰ (۴)
۱۰	دفتر نقاشی علی ۱۰ برگ و ۵ صفحه دارد. این دفتر چند صفحه دارد؟
	<input type="checkbox"/> ۱۵ (۱) <input type="checkbox"/> ۲۰ (۲) <input type="checkbox"/> ۲۰ (۳) <input type="checkbox"/> ۳۰ (۴)
سوالات چهار گزینه ای علوم	
۱۱	کدام جانور زیر خواب زمستانی ندارد؟
	<div style="display: flex; justify-content: space-around;"> <div style="text-align: center;">  (۱) </div> <div style="text-align: center;">  (۲) </div> </div> <div style="display: flex; justify-content: space-around; margin-top: 20px;"> <div style="text-align: center;">  (۳) </div> <div style="text-align: center;">  (۴) </div> </div>
۱۲	کدام جانور زیر هم شکار می شود و هم شکارچی است؟
	<input type="checkbox"/> نهنگ (۱) <input type="checkbox"/> فیل (۲) <input type="checkbox"/> قورباغه (۳) <input type="checkbox"/> عقاب (۴)
۱۳	از بین جانوران زیر کدام یک لانه نمی سازند؟
	<div style="display: flex; justify-content: space-around;"> <div style="text-align: center;">  (۱) </div> <div style="text-align: center;">  (۲) </div> </div> <div style="display: flex; justify-content: space-around; margin-top: 20px;"> <div style="text-align: center;">  (۳) </div> <div style="text-align: center;">  (۴) </div> </div>
۱۴	بزرگ ترین گوشت خوار خشکی کدام است؟
	<div style="display: flex; justify-content: space-around;"> <div style="text-align: center;">  (۱) </div> <div style="text-align: center;">  (۲) </div> </div> <div style="display: flex; justify-content: space-around; margin-top: 20px;"> <div style="text-align: center;">  (۳) </div> <div style="text-align: center;">  (۴) </div> </div>
۱۵	در کدام یک از مکان های زیر جانوران کم تری زندگی می کنند؟
	<input type="checkbox"/> دریاچه (۱) <input type="checkbox"/> جنگل (۲) <input type="checkbox"/> بیابان (۳) <input type="checkbox"/> چمنزار (۴)

۱۶	کدام یک دارای ریشه‌ی راست است؟	۱ 	۲ 	۳ 	۴ 
۱۷	کدام یک دانه‌ی یک قسمتی ندارد؟	۱ 	۲ 	۳ 	۴ 
۱۸	کدام گزینه دارای ریشه‌ی راست نیست؟	۱ 	۲ 	۳ 	۴ 
۱۹	کدام گزینه دارای دانه‌ی بال‌دار است؟	۱ 	۲ 	۳ 	۴ 
۲۰	کدام گزینه، برگ دراز و تیغه‌ای دارد؟	۱ 	۲ 	۳ 	۴ 
درس بخوانیم					
۲۱	در کدام گزینه کلمه‌ها به ترتیب حروف الفبا مرتب شده است؟	الف- شنوا- بینا- دانا- توانا- درخشان- روشن - آسمان ب- آسمان- شنوا- دانا- توانا- درخشان - بینا ج- آسمان - روشن - درخشان- شنوا- دانا- توانا- بینا د- آسمان - بینا- توانا- دانا- درخشان- روشن - شنوا			
۲۲	شعر پدربزرگ از کیست؟	الف- محمدرضا سنگری ب- وحید نیکخواه آزاد ج- محمود پوروهاب د- ناصر کشاورز			
۲۳	کدام یک از صفات یک نماینده‌ی خوب نیست؟	الف- مرتب ب- عجول ج- عادل د- باحوصله			
۲۴	کدام کلمه‌ها به ترتیب عبارت زیر را کامل می‌کنند؟ امروز.....نماینده‌ی جدید برای کلاسش انتخاب کند.	الف- او، می خواهند ب- تو، می خواهد ج- او، می خواهد د- شما، می خواهی			
۲۵	مخالف کلمه‌ی "رهایی" کدام گزینه است؟	الف- آزادی ب- فرار کردن ج- خلاص د- اسارت			
۲۶	املای کدام کلمه صحیح است؟	الف- فراق ب- قبلا ج- یادداشت د- شعر خانی			

۲۷	به آخر کدام کلمه نمی‌توان "گی" اضافه کرد؟	الف - همه	ب- راننده	ج - شایسته	د- دانسته
۲۸	کدام کلمه را می‌توان با "ان و ها" جمع بست؟	الف - میز	ب- شکل	ج - چشم	د- برف
۲۹	اگر (گر) را به کدام کلمه اضافه کنیم معنی نمی‌دهد؟	الف - سفال	ب- بازی	ج - کار	د- آهنی
۳۰	کدام کلمه را به دو صورت نمی‌توانیم بخوانیم؟	الف - شک	ب- شر	ج - شب	د- شل